

A

GENEL KÜLTÜR TESTİ

KPSS-ORTAÖĞR. / 2008

1. Aşağıdakilerden hangisinin Uygurların matbaalarının olduğuna ve baskı yaptıklarına bir kanıt olduğu savunulabilir?

- A) Tahtadan yapılmış harfler
- B) Çeviri eserler
- C) 18 harften oluşan alfabe
- D) Taş üzerine yazılmış kitabeler
- E) Kâğıt üzerine yazılmış belgeler

2.

- I. Bulgarlar
- II. Macarlar
- III. Göktürkler

Yukarıdaki Türk kavimlerinden hangileri Hristiyanlığı kabul etmiştir?

- A) Yalnız I
- B) Yalnız II
- C) I ve II
- D) I ve III
- E) I, II ve III

3. Anadolu Selçukluları zamanında, uç bölgelerde görev alan Türkmen beylerinin boy ve oymaklarıyla gelerek buralarda yerleşmelerinin,

- I. bölgede nüfusun artması,
- II. sınırların korunması,
- III. Anadolu'nun Türkleşmesine katkısı olması

durumlarından hangilerine ortam hazırladığı savunulabilir?

- A) Yalnız I
- B) Yalnız II
- C) Yalnız III
- D) I ve III
- E) I, II ve III

4. Osmanlı Devleti'nde, devletin tebaası olan kişilerin sosyal ve ekonomik hayat düzeyinin yükseltilmesi ve insanların sağlık, eğitim, kültür gereksinimlerinin karşılanmasında aşağıdakilerin hangisinden yararlanılmıştır?

- A) Timar sistemi
- B) Vakıf sistemi
- C) İltizam sistemi
- D) Müsadere usulü
- E) Devşirme sistemi

5. Osmanlı Devleti'nde şeyhülislamı atama ve onu görevden alma yetkisi aşağıdakilerden hangisine aittir?

- A) Padişah
- B) Rumeli Kazaskeri
- C) Nişancı
- D) Reisülküttap
- E) Sadrazam

6. Osmanlı Devleti'nde ruhsal bozuklukların tedavi edilmesi amacıyla II. Bayezit Külliyesi'nde bulunan şifahane aşağıdaki kentlerin hangisindeydi?

- A) Kayseri
- B) Niğde
- C) Edirne
- D) Konya
- E) Trabzon

Diğer sayfaya geçiniz.

7.

- I. Senedi İttifak
- II. Kapitülasyonlar
- III. Islahat Fermanı

Yukarıdakilerden hangileri Avrupa devletlerinin Osmanlı Devleti'nin iç işlerine karışmalarına ortam hazırlamıştır?

- A) Yalnız I B) Yalnız II C) Yalnız III
D) I ve II E) II ve III

8. Aşağıdaki padişahlardan hangisinin döneminde yapılan düzenleme hareketlerinde batıdan yararlanılmamıştır?

- A) I. Mahmut B) IV. Murat C) II. Mahmut
D) III. Selim E) III. Ahmet

9. XIX. yüzyılda Osmanlı Devleti'nde, geleneksel eğitim veren medreseler, çağdaş eğitim veren devlet okulları, yabancı ve misyoner okulları bulunuyordu.

Bu durumun aşağıdakilerden hangisini gösterdiği savunulabilir?

- A) Eğitimin vakıflara bağlı olduğunu
B) Medreselerde müfredatın değiştiğini
C) Eğitim ve öğretimde bölünmüşlük olduğunu
D) Misyoner okullarının medresenin önüne geçtiğini
E) Yabancı okullarının daha sonra kurulduğunu

10. Sultan Abdülmecit, hiçbir kesimin etkisi olmadan Tanzimat Fermanı'yla tebaasına can, mal ve namus güvenliğinin sağlanacağını, vergilerin herkesin gelirine göre alınacağını duyurmuştur.

Bu duyuru, Osmanlı Devleti'nde aşağıdakilerden hangisi yönünde bir gelişmedir?

- A) Avrupa devletlerinden biri olması
B) Özerk yönetimlerin yaygınlaşması
C) Yeniliklerin halktan gelmesi
D) Halkın yönetime katılması
E) Temel hakların tanınması

11. Osmanlı Devleti'nin Birinci Dünya Savaşı'na girmesinde,

- I. Balkan Savaşlarında kaybedilen toprakların geri alınmak istenmesi,
- II. Rusya'da rejim değişikliği olması,
- III. Balkan Savaşlarından sonra İttihat ve Terakki Partisinin yönetimi ele geçirmesi

gelişmelerinden hangilerinin etkisi vardır?

- A) Yalnız I B) Yalnız II C) Yalnız III
D) I ve III E) II ve III

12. Aşağıdakilerden hangisi Sivas Kongresi'ni, Erzurum Kongresi'nden ayıran özelliklerden biridir?

- A) Mustafa Kemal'in kongre başkanı seçilmesi
- B) Anadolu ve Rumeli Müdafaa-i Hukuk Cemiyetlerinin birleştirilmesi
- C) Azınlıklara sosyal ve siyasi dengeyi bozacak ayrıcalıkların tanınmaması
- D) Temsilciler Kurulu seçilmesi
- E) Her türlü işgale karşı çıkılması

13. Aşağıdaki gelişmelerden hangisinin, TBMM Hükümetinin tanınması konusunda Anlaşma Devletleri arasında görüş ayrılığı olduğunu gösterdiği savunulamaz?

- A) Gürcistan ile antlaşma yapılması
- B) Fransa ile Ankara Antlaşması'nın yapılması
- C) II. İnönü Savaşı'ndan sonra İtalya'nın Anadolu'daki askerî gücünü çekmesi
- D) TBMM Hükümetinin İtalya'nın aracılığı ile Londra Konferansı'na katılması
- E) İngiltere'nin, Yunanistan'ı Kurtuluş Savaşı süresince desteklemesi

14. Temsilciler Kurulunun çalışma yeri olarak Ankara'yı seçmesinde,

- I. savaş alanlarına yakın olması,
- II. İstanbul'daki siyasi gelişmeleri yakından izleyebilme olanağı vermesi,
- III. TBMM'nin açılması

durumlarından hangilerinin etkili olduğu savunulabilir?

- A) Yalnız I
- B) Yalnız II
- C) Yalnız III
- D) I ve II
- E) I, II ve III

15. İlk TBMM'de ülkenin düşman işgalinden kurtuluşuna kadar, milletvekillerinin siyasal parti ve grup hareketlerini yasaklayan hükümler getirilmeye çalışılmasındaki amacın aşağıdakilerden hangisi olduğu savunulabilir?

- A) Anayasal düzene geçmek
- B) Çok partili döneme geçişi geciktirmek
- C) Meclisteki milletvekili sayısını değişmeyen hâle getirmek
- D) Anadolu ve Rumeli'deki ulusalcı düşüncede olanları bir cemiyet altında birleştirmek
- E) Ulusal birliğin parçalanmasını engellemek

16. Moskova Antlaşması'nın 8. maddesiyle TBMM Hükümeti ve Sovyet Rusya birbirlerine karşı ülkelerinde örgütler kurulmasını önlemeye karar vermiştir.

Bu kararlar,

- I. birbirlerinin iç işlerine karışmama,
- II. rejimlerini karşılıklı güvence altına alma,
- III. aynı uluslararası ittifaklarda yer alma

durumlarından hangilerinin amaçlandığı savunulabilir?

- A) Yalnız I
- B) Yalnız II
- C) I ve II
- D) II ve III
- E) I, II ve III

- 17.
- Mustafa Kemal'e mareşallik unvanının verilmesi
 - Fransa'yla Ankara Antlaşması'nın yapılması

Yukarıdaki gelişmeler aşağıdaki savaşlardan hangisinin sonuçları arasındadır?

- A) Başkomutanlık Savaşı
B) Sakarya Savaşı
C) Birinci İnönü Savaşı
D) İkinci İnönü Savaşı
E) Eskişehir ve Kütahya Savaşları

- 18.
- I. Cumhuriyet'in ilan edilmesi
 - II. Erzurum Kongresi'nin toplanması
 - III. Amasya Genelgesi'nin yayımlanması

Yukarıdaki gelişmelerin kronolojik sırası aşağıdakilerden hangisidir?

- A) I, II, III
B) I, III, II
C) II, I, III
D) III, I, II
E) III, II, I

- 19.
- İmroz ve Bozcaada'nın Türkiye'de kalması
 - Karaağaç'ın tazminat karşılığı Türkiye'ye bırakılması

Yukarıdaki gelişmeler aşağıdaki antlaşmalardan hangisinin kapsamındadır?

- A) Lozan Antlaşması
B) Atina Antlaşması
C) Ouchy Antlaşması
D) Montrö Antlaşması
E) Ankara Antlaşması

20. **İslamiyette ortaya çıkan siyasi ve dinî güçlerin bir elde toplanması geleneğine aşağıdakilerden hangisiyle son verilmiştir?**

- A) 1876 Anayasası'nın yürürlükten kaldırılması
B) Tekke ve türbelerin kapatılması
C) Saltanatın kaldırılması
D) Hukuk birliğinin sağlanması
E) Medreselerin kapatılması

- 21.
- I. Yeni Türk alfabesi
 - II. Okka yerine kilo sistemi
 - III. Alaturka saat yerine alafranga saat sistemi

Yukarıdakilerden hangilerinin kullanılmasıyla uluslararası ilişkilerdeki uygulamalarda uyumsuzlukların giderilmesinin amaçlandığı savunulabilir?

- A) Yalnız I
B) Yalnız II
C) Yalnız III
D) II ve III
E) I, II ve III

22. **Aşağıdakilerden hangisinin gerçekleştirilmesinde ulusçu devlet anlayışı olduğu savunulamaz?**

- A) Ölçü birimlerinin değiştirilmesi
B) Kabotaj Kanunu'nun uygulanması
C) Türk Tarih Kurumunun kurulması
D) Yeni Türk alfabesinin kabul edilmesi
E) Türk parasının korunması için kanun çıkarılması

23. Aşağıdakilerden hangisi, Tevhid-i Tedrisat (Öğretim Birliği) Kanunu'nun sonuçlarından biridir?

- A) Azınlık okullarının kapatılması
- B) Ülkede ulusal ve laik öğretimin başlaması
- C) Uluslararası ticari ilişkilerin kolaylaşması
- D) Hukuk alanında birlik sağlanması
- E) Türk tarihinin bir bütün olarak araştırılması

24. Türk toplumunun ilerleme ve gelişme yolunda, uluslararası ilişkilerde çağdaş uluslarla yan yana ve uyum içinde yürümesi, kendine özgü karakterini ve bağımsız kimliğini korumasını temel alan milliyetçilik ilkesiyle aşağıdakilerden hangisine ulaşamaz?

- A) Ulusallığın ve bağımsızlığın ilke edinilmesi
- B) Çağdaşlığın benimsenmesi
- C) Türk milletinin kendini diğer milletlerden üstün görmesi
- D) Toplumun refah düzeyinin yükseltilmesine çalışılması
- E) Uluslararası barışın korunmasına özen gösterilmesi

25. 1930-1934 yılları arasında kadınla erkek arasındaki siyasi eşitsizlik, kadınlara,

- I. belediye seçimlerine katılma,
- II. milletvekili seçme ve seçilme,
- III. kendi soyadını taşıyabilme

haklarından hangilerinin tanınmasıyla giderilmeye çalışılmıştır?

- A) Yalnız I
- B) Yalnız II
- C) Yalnız III
- D) I ve II
- E) I, II ve III

26.

- I. Mülkiyet hakkının olması
- II. Toplumda ayrıcalıklara son verilmesi
- III. Herkesin yönetime katılması

Yukarıdakilerden hangileri halkçılık ilkesiyle bağdaşır?

- A) Yalnız I
- B) Yalnız II
- C) Yalnız III
- D) I ve II
- E) I, II ve III

27. Atatürk Döneminde,

- I. Kabotaj Kanunu'nun kabul edilmesi,
- II. Soyadı Kanunu'nun kabul edilmesi,
- III. tekke ve türbelerin kapatılması

gelişmelerinden hangilerinin resmî işlemlerde kolaylık sağladığı savunulabilir?

- A) Yalnız I
- B) Yalnız II
- C) Yalnız III
- D) I ve II
- E) I, II ve III

28. Terakkiperver Cumhuriyet Partisinin kapatılma nedeni aşağıdakilerden hangisidir?

- A) İki dereceli seçim sisteminin uygulanması
- B) Muhalefet partisine ihtiyaç duyulması
- C) Serbest Cumhuriyet Partisinin kurulması
- D) Şeyh Sait Ayaklanması'nın çıkması
- E) Menemen Olayı'nın çıkması

29. Kurtuluş Savaşı'nın "Vatanın parçalanmaz bir bütün olduğu" ilkesi ilk kez aşağıdakilerin hangisinde yer almıştır?

- A) Sivas Kongresi kararları
- B) Erzurum Kongresi kararları
- C) Amasya Genelgesi
- D) Amasya Görüşmeleri
- E) Misakımillî

30. Devletçilik ilkesi,

- I. özel girişimciliğe yer verilmesi,
- II. yabancı sermayeden yararlanılması,
- III. mülkiyet hakkının ulusun yararlarına aykırı biçimde kullanılması

durumlarından hangilerine karşıdır?

- A) Yalnız I
- B) Yalnız II
- C) Yalnız III
- D) I ve II
- E) II ve III

31. Atatürk Döneminde, Türkiye'nin,

- I. yabancı gemilerin Türk kara sularında serbest dolaşımını yasaklaması,
- II. Milletler Cemiyetine üye olması,
- III. Balkan Paktının kurucu üyelerinden biri olması

durumlarından hangilerinin, uluslararası ilişkilerde uzlaşmacı olduğunu gösterdiği savunulabilir?

- A) Yalnız I
- B) Yalnız II
- C) Yalnız III
- D) I ve II
- E) II ve III

32. 17 Şubat 1923 tarihinde açılan İktisat Kongresi'nin toplantı yeri olarak İzmir'in seçilmesinde,

- I. Kurtuluş Savaşı'nın bitimini noktlayan yer olması,
- II. Türkiye'nin en önemli ihracat limanlarından biri olması,
- III. kongreye her ilçeden sekiz delegenin seçilmesi

durumlarından hangilerinin etkili olduğu savunulabilir?

- A) Yalnız I
- B) Yalnız II
- C) I ve II
- D) II ve III
- E) I, II ve III

33.

- I. Türkiye – Irak sınırının çizilmesi
- II. İtalya ile savaş durumunun sona ermesi
- III. Irak'ın petrol üzerine konan vergi gelirinden kendi payına düşecek miktarın yüzde onunu 25 yıllık süre için Türkiye'ye vermeyi kabul etmesi

Yukarıdakilerden hangileri, Musul sorununun çözülmesinin sonuçları arasındadır?

- A) Yalnız I B) Yalnız II C) Yalnız III
D) I ve III E) I, II ve III

34. Atatürk'ün girişimiyle Cumhuriyet Döneminde kurulan ilk banka aşağıdakilerden hangisidir?

- A) İş Bankası
B) Sanayi ve Maadin Bankası
C) Emlak ve Eytam Bankası
D) Merkez Bankası
E) Ziraat Bankası

35. Balkan Paktının kurulmasında aşağıdakilerden hangisinin etkisi olduğu savunulabilir?

- A) Birinci Dünya Savaşı'nın başlaması
B) Hatay'ın Türk topraklarına katılması
C) Sadâbat Paktına Türkiye'nin girmesi
D) Montrö Sözleşmesi'yle Boğazların Türk egemenliğine geçmesi
E) Faşist İtalya ve Nazi Almanya'nın güçlenmesi

36.

- I. Yabancı okullar sorununun çözülmesi
- II. Batı Trakya'nın Yunanistan'a bırakılması
- III. Türkiye'nin Kore Savaşı'na katılması

Yukarıdakilerden hangileri Atatürk Dönemi gelişmeleri arasındadır?

- A) Yalnız I B) Yalnız II C) I ve II
D) I ve III E) II ve III

37.

- I. Kuzey Atlantik Antlaşması Örgütü (NATO)
- II. Birleşmiş Milletler Teşkilatı
- III. Varşova Paktı

Yukarıdakilerden hangileri bugün de işlevini sürdürmektedir?

- A) Yalnız I B) Yalnız II C) Yalnız III
D) I ve II E) I, II ve III

A

KPSS-ORTAÖĞR. / 2008

38. Türkiye'nin kara sınırlarıyla ilgili aşağıdaki ifadelerden hangisi yanlıştır?

- A) Kuzeybatıda Bulgaristan'la sınırı vardır.
- B) Yunanistan'la olan sınırının çoğunu Meriç Nehri oluşturur.
- C) Suriye'yle olan sınırının tamamında demir yolu vardır.
- D) İran dışındaki diğer sınırlar Millî Mücadele sırasında ya da sonrasında imzalanan antlaşmalarla belirlenmiştir.
- E) En fazla ülkeyle doğu sınırında komşudur.

40. Aşağıdaki ovalardan hangisi, karşısında verilen bölgede yer almaz?

<u>Ova</u>	<u>Bölge</u>
A) Altınbaşak	Güneydoğu Anadolu
B) Amik	Akdeniz
C) Erbaa	İç Anadolu
D) Ergene	Marmara
E) Gediz	Ege

39. Kızılırmak, aşağıdaki özelliklerin hangisi bakımından Türkiye'nin diğer akarsularından ayrılır?

- A) Çok fazla miktarda alüvyon taşıması
- B) Enerji potansiyelinin yüksek olması
- C) Geniş bir su toplama alanına sahip olması
- D) Tümüyle ülke sınırları içinde yer alan en uzun akarsu olması
- E) İç su balıkçılığı yönünden önemli bir potansiyele sahip olması

41. Türkiye'de etkin olan yerel rüzgârlardan hangisinin esiş yönü yanlış verilmiştir?

<u>Rüzgâr adı</u>	<u>Esiş yönü</u>
A) Poyraz	Kuzeydoğu
B) Keşişleme	Güneydoğu
C) Yıldız	Kuzey
D) Karayel	Kuzeybatı
E) Lodos	Batı

Diğer sayfaya geçiniz.

42. Türkiye'nin coğrafi bölgelerinde kar yağışının ve karın yerde kalma süresinin farklı olmasında,

- I. deniz etkisi,
- II. yükselti,
- III. boylam,
- IV. bitki örtüsü

etmenlerinden hangilerinin etkisi vardır?

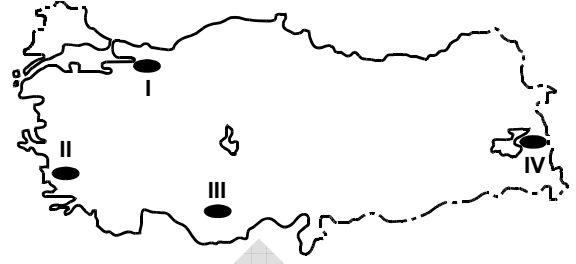
- A) I ve II B) I ve III C) II ve III
D) II ve IV E) III ve IV

43. Tarım, ticaret, turizm, endüstri ve ulaşım, kentlerin büyümesinde etkilidir.

Buna göre, aşağıdaki kıyı kentlerinden hangisinin gelişmesinde bu etkenlerin daha az etkili olduğu söylenebilir?

- A) İzmir B) İstanbul C) Zonguldak
D) İskenderun E) Antalya

44.



Haritada numaralanmış dört yöreden hangisi en sık, hangisi en seyrek nüfusludur?

- | | En sık | En seyrek |
|----|--------|-----------|
| A) | I | II |
| B) | I | III |
| C) | II | III |
| D) | II | IV |
| E) | III | IV |

45. Aşağıdakilerden hangisi Türkiye'deki nüfus dağılışı üzerinde etkili değildir?

- A) Ekonomik etkinliklerin farklı olması
- B) Toprak verimliliğinin farklı olması
- C) Geniş deltaların bulunması
- D) İki kıtada topraklarının bulunması
- E) Yer şekillerinin çeşitlilik göstermesi

Diğer sayfaya geçiniz.

46.

- I. Üretimi yalnız Akdeniz Bölgesi'nde yapılır.
- II. Türkiye'nin önemli dış satım ürünlerinden biridir.
- III. Portakal ve mandalina üretimi diğerlerinden fazladır.
- IV. Dünya üretiminin yarısından fazlasını Türkiye karşılar.

Türkiye'de turuncgil üretimiyle ilgili yukarıdaki özelliklerden hangileri doğrudur?

- A) I ve II B) I ve III C) II ve III
D) II ve IV E) III ve IV

47.



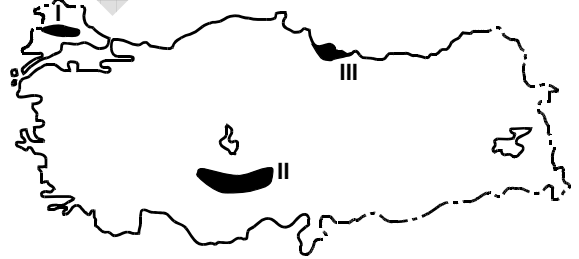
Yukarıdaki Karadeniz Bölgesi haritasında numaralanmış beş merkezden hangisinde buğday üretimi yapmak diğerlerinden daha zordur?

- A) I B) II C) III D) IV E) V

48. Çukurova'yla Konya Ovası arasında yapılan aşağıdaki karşılaştırmalardan hangisi doğrudur?

- A) Seracılık etkinlikleri Konya Ovası'nda daha yaygındır.
- B) Yetiştirilebilen tarım ürünü çeşidi Konya Ovası'nda daha fazladır.
- C) Toprağı nadasa bırakma uygulaması Çukurova'da daha yaygındır.
- D) Endüstriyel tarım ürünlerinin yetiştirilmesi bakımından Konya Ovası daha elverişlidir.
- E) Aynı tarihte ekilen buğday Çukurova'da daha erken hasat edilir.

49.

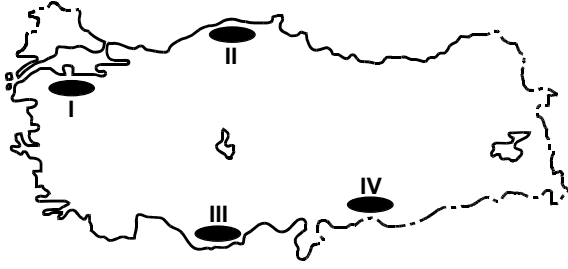


Haritada gösterilen üç yörede yoğun olarak yetiştirilen ürünler aşağıdakilerin hangisinde doğru olarak verilmiştir?

	I	II	III
A) Ayçiçeği		Buğday	Fındık
B) Portakal		Şeker pancarı	Mısır
C) Pamuk		Buğday	Mısır
D) Pamuk		Mercimek	Fındık
E) Ayçiçeği		Şeker pancarı	Çay

Diğer sayfaya geçiniz.

50.



Türkiye'nin yüzey şekilleri göz önüne alındığında, haritada gösterilen tarım alanlarının hangi ikisinde, traktör ve biçerdöver gibi tarım aletlerinin kullanımının diğerlerinden daha az olması beklenir?

- A) I ve II B) I ve III C) II ve III
D) II ve IV E) III ve IV

51.

- I. Mersin
II. Sivas
III. Muğla
IV. Sinop

Kışın serin ve yağışlı, yazın sıcak ve kurak iklim isteyen bir tarım ürünü, yukarıdaki illerin hangilerinde daha kolay yetiştirilebilir?

- A) I ve II B) I ve III C) II ve III
D) II ve IV E) III ve IV

52. Aşağıdakilerin hangisinde bir tarım ürünü, üretim miktarının ve dış satımdaki payının en fazla olduğu ille birlikte verilmiştir?

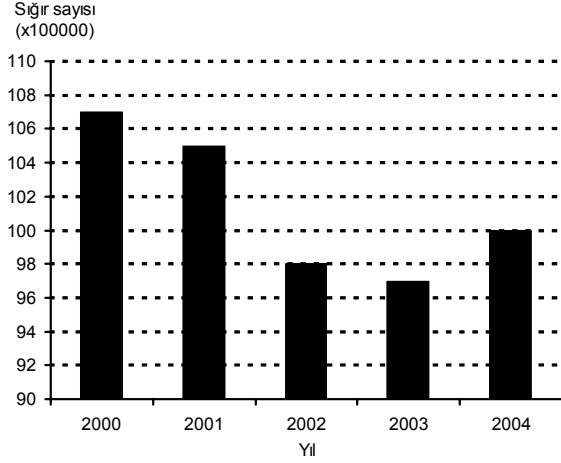
- A) İncir – Aydın
B) Zeytin – Hatay
C) Elma – Kastamonu
D) Mandalina – Rize
E) Üzüm – Adana

53. Türkiye'deki kümes hayvancılığı ve arıcılık etkinliklerinde önemli bir yere sahip olan iller aşağıdakilerin hangisinde verilmiştir?

<u>Kümes hayvancılığı</u>	<u>Arıcılık</u>
A) Mardin	Artvin
B) Uşak	Samsun
C) Erzurum	Çanakkale
D) Rize	Antalya
E) Bolu	Muğla

Diğer sayfaya geçiniz.

54. Aşağıdaki grafik Türkiye’de 2000-2004 yılları arasındaki siğir sayısını göstermektedir.



Yalnızca bu grafiğe dayanarak aşağıdaki bilgilerden hangisine ulaşılabilir?

- A) Verilen yıllardaki kesim hayvanı sayısına
B) Verilen yıllarda siğir sayıları arasındaki değişim oranına
C) Verilen yıllarda et üretimi arasındaki değişime
D) Verilen yıllardaki süt üretimi miktarına
E) Sağımlik hayvan sayısı ile et üretilen hayvan sayısı arasındaki orana

55. Aşağıdaki limanlardan hangisinin demir yoluyla bağlantısı yoktur?

- A) İskenderun B) Mersin
C) Zonguldak D) Samsun
E) Trabzon

56. Türkiye’de çeşitli nedenlerle tahrip edilen orman örtüsünün kendini yenilemesi en kolay olan bölge aşağıdakilerden hangisidir?

- A) Akdeniz B) Güneydoğu Anadolu
C) İç Anadolu D) Karadeniz
E) Ege

- 57.

- I. Toplam rezervi daha zengindir.
II. Termik santrallerde kullanımı daha yaygındır.
III. Çıkartma maliyeti daha yüksektir.

Taş kömürü ile karşılaştırıldığında, Türkiye’de linyitle ilgili yukarıdaki ifadelerden hangileri doğrudur?

- A) Yalnız I B) Yalnız III C) I ve II
D) I ve III E) II ve III

Diğer sayfaya geçiniz.

58. Türkiye'nin hidroelektrik enerji üretimine, aşağıdaki bölümlerden hangisinin katkısı en azdır?

- A) Konya
B) Orta Karadeniz
C) Ege
D) Adana
E) Yukarı Fırat

60. Türkiye'de dış turizmin gelişmesinde aşağıdakilerden hangisinin etkisi en azdır?

- A) Bazı turistik yörelere havaalanı yapılması
B) Kıyı yerleşmelerinde modern yat limanlarının yapılması
C) Konaklama hizmeti veren yerlerin sayı ve niteliklerinin artması
D) Tarihî ve doğal güzelliklere sahip alanların tanımlarının yapılması
E) Turizm merkezleri çevresinde turfanda sebze ve meyvecilik yapılması

59.

- I. Petrol
II. Radyoaktif elementler
III. Su gücü
IV. Taş kömürü

Güneydoğu Anadolu Bölgesi, yukarıda verilen enerji kaynaklarının hangileri bakımından Türkiye'de önemli bir yere sahiptir?

- A) I ve II
B) I ve III
C) I ve IV
D) II ve III
E) II ve IV

61. 1982 Anayasası'na göre, bir siyasal partinin kapatılmasına aşağıdakilerden hangisi karar verebilir?

- A) İçişleri Bakanlığı
- B) Anayasa Mahkemesi
- C) Uyuşmazlık Mahkemesi
- D) Danıştay
- E) Yargıtay

62. 1982 Anayasası'nın değiştirilmesi için gereken teklif ve kabul yeter sayısı ile ilgili aşağıdaki ifadelerden hangisi doğrudur?

- A) TBMM üye tam sayısının en az beşte birinin teklifi ve toplanmış olan üyelerin en az üçte ikisinin kabulü gerekir.
- B) TBMM üye tam sayısının en az onda birinin teklifi ve TBMM üye tam sayısının en az üçte ikisinin kabulü gerekir.
- C) 20 milletvekili veya bir siyasi parti grubunun teklifi ve TBMM üye tam sayısının en az salt çoğunluğunun kabulü gerekir.
- D) TBMM üye tam sayısının en az üçte birinin veya Bakanlar Kurulunun teklifi ve TBMM üye tam sayısının en az üçte ikisinin kabulü gerekir.
- E) TBMM üye tam sayısının en az üçte birinin teklifi ve TBMM üye tam sayısının en az beşte üçünün kabulü gerekir.

63. Aşağıdakilerden hangisi, 1982 Anayasası'nın 4. maddesi uyarınca, değiştirilmesi ve değiştirilmesinin teklif edilmesi yasaklanmış olan 3. maddesinde yer almamıştır?

- A) Başkentin Ankara olduğu
- B) Bayrağın şeklinin kanunda belirtilen beyaz ay yıldızlı al bayrak olduğu
- C) İstiklâl Marşı'nın millî marş olduğu
- D) Devletin dilinin Türkçe olduğu
- E) Latin harflerinden oluşturulan Türk alfabesinin kullanılacağı

64. 1982 Anayasası'na göre, milletvekili seçimlerinin yönetim ve denetimini aşağıdakilerden hangisi yapar?

- A) TBMM Anayasa Komisyonu
- B) Anayasa Mahkemesi
- C) Yüksek Seçim Kurulu
- D) Yargıtay Cumhuriyet Başsavcılığı
- E) Uyuşmazlık Mahkemesi

A

KPSS-ORTAÖĞR. / 2008

65. Yürütme yetkisi ve görevi aşağıdakilerden hangisine aittir?

- A) Milletvekillerine
- B) Cumhurbaşkanına ve Bakanlar Kuruluna
- C) Yargıtay Başkanına ve Danıştay Başkanına
- D) Hâkimlere ve savcılara
- E) Genelkurmay Başkanına

66. Aşağıdakilerden hangisi il genel idaresinin organlarından biridir?

- A) İl genel meclisi
- B) İl daimi encümeni
- C) Belediye meclisi
- D) Belediye encümeni
- E) İl idare kurulu

67. Belediyenin asli karar organı aşağıdakilerden hangisidir?

- A) Belediye meclisi
- B) Belediye encümeni
- C) İl genel meclisi
- D) Belediye başkanı
- E) Vali

68. Aşağıdakilerden hangisi merkezî idarenin taşra teşkilatından biri değildir?

- A) İl genel idaresi
- B) Belediye idaresi
- C) İlçe idaresi
- D) Bucak idaresi
- E) Bölge idareleri

69. Normlar arasındaki hiyerarşik sıralamaya göre en üstün norm aşağıdakilerden hangisidir?

- A) Kanun hükmünde kararname
- B) Yönetmelik
- C) Anayasa
- D) Kanun
- E) Tüzük

70. Bir kişiyi devlete bağlayan hukuki ve siyasi bağa ne ad verilir?

- A) Uyrukluk (Tabiiyet)
- B) Üyelik
- C) Katılma
- D) Sığınma
- E) Karşılıklılık

71. Hukuk kurallarının hangi özelliği onu diğer sosyal düzen kurallarından ayırır?

- A) Sosyal yaşamı düzenlemesi
- B) Kişilere bazı ödevler yüklemesi
- C) Herkese uygulanabilir olması
- D) Devlet gücüne dayanması
- E) Bazı emir ve yasakları içermesi

Diğer sayfaya geçiniz.

A

KPSS-ORTAÖĞR. / 2008

72. Hazine Müsteşarlığı aşağıdakilerden hangisine bağlıdır?

- A) TBMM
B) Maliye Bakanlığı
C) İçişleri Bakanlığı
D) Başbakanlık
E) T.C. Merkez Bankası

74. Türkiye’de ve başka bazı ülkelerde kene aracılığıyla bulaşarak ölümlere yol açan hastalık aşağıdakilerden hangisidir?

- A) Malarya
B) Karasu ateşi
C) Tatarcık humması
D) Kayalık dağlar ateşi
E) Kırım-Kongo kanamalı ateşi

73. Türkiye’de yerel seçimler hangi yılda yapılacaktır?

- A) 2008
B) 2009
C) 2010
D) 2011
E) 2012

75. 2008 Avrupa Futbol Şampiyonası’nı kazanan ülke aşağıdakilerden hangisidir?

- A) Almanya
B) İtalya
C) İspanya
D) Hollanda
E) Portekiz

TEST BİTTİ.

CEVAPLARINIZI KONTROL EDİNİZ.